

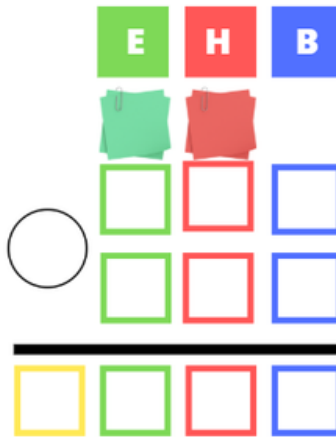


1. Anak 2 sagar ditu eta bere ahizpak 3 gehiago ematen dizkio. Zenbat sagar ditu orain Anak?

DATUAK

ERAGIKETA

EMAITZA

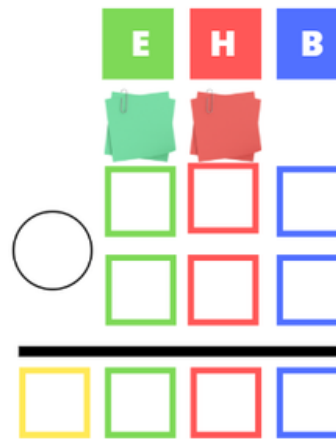


2. Luisek 5 globo ditu. 1 lehertzen zaio. Zebat globo geratzen zaizkio?

DATUAK

ERAGIKETA

EMAITZA

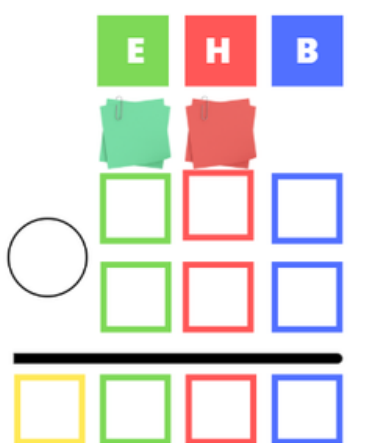




3. Martak 3 arkatz ditu eta bere lagunak 4 oparitzen dizkio.
Zenbat arkatz ditu orain?

DATUAK

ERAGIKETA



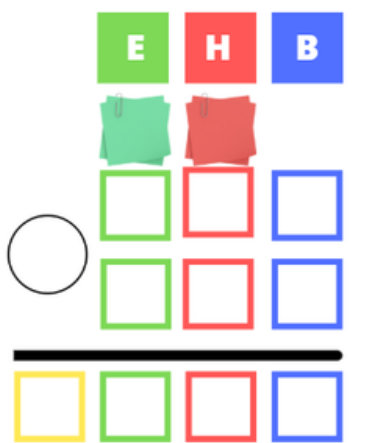
EMAITZA



4. Kaxa batean 10 jostailu daude. 3 eramaten dituzte. Zenbat
jostailu geratzen dira kaxan?

DATUAK

ERAGIKETA



EMAITZA

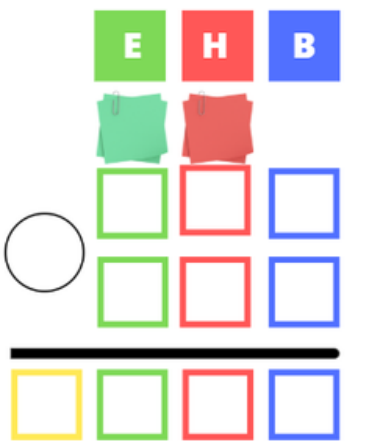




5. Parke batean 7 ahate eta 5 antzar daude. Zenbat animali daude guztira?

DATUAK

ERAGIKETA



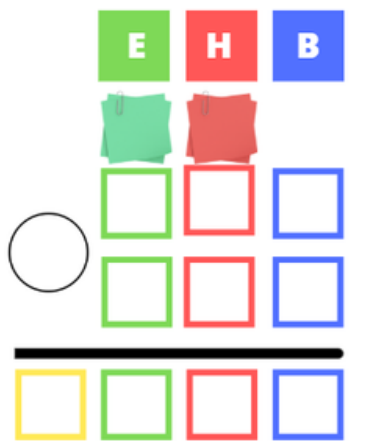
EMAITZA



6. 6 laguneko kuadrila bat zinera dijoa eta 4 gehiagorekin aurkitzen dira. Zenbat lagun joan dira zinera?

DATUAK

ERAGIKETA



ERANTZUNA





7. Tren batean 28 bidaiari daude. Hurrengo geltokian 7 jeisten dira. Zenbat bidaiari geratzen dira?

DATUAK

ERAGIKETA



EMAITZA



8. Baserri batean 64 oilo daude. 12 oilo saltzen badira, zenbat geratzen dira baserrian?

DATUAK

ERAGIKETA



EMAITZA

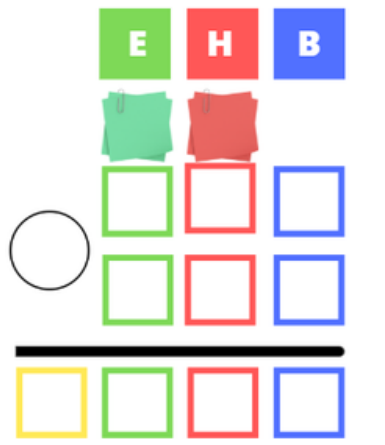




9. Balda batean 125 liburu daude eta 75 gehiago gehitzen dira.
Zenbat liburu daude guztira?

DATUAK

ERAGIKETA



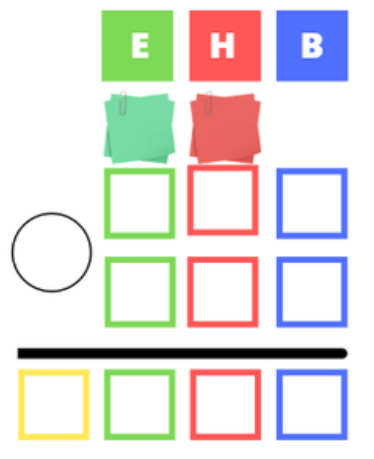
EMAITZA



10. Ikasgelan 180 ikasle daude eta 60 gehiago apuntatzen
dira. Zenbat ikasle daude guztira?

DATUAK

ERAGIKETA



EMAITZA

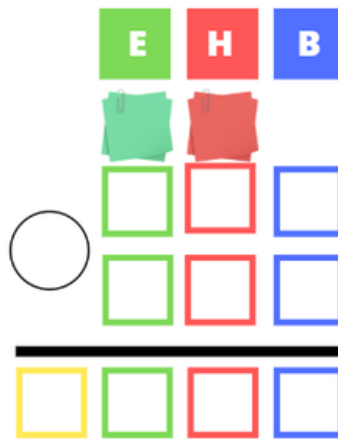




11. Tren batek 250 bidaiari eraman ditzake. 140 bidaiarik bidaiatzen badute, zenbat aukeri geratzen dira libre?

DATUAK

ERAGIKETA



EMAITZA



12. Denda batean 400 jostailu daude. 200 saltzen badira, zenbat jostailu geratzen dira?

DATUAK

ERAGIKETA



EMAITZA

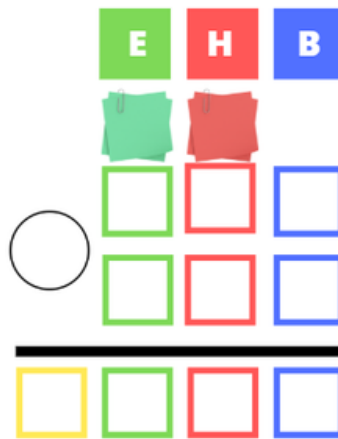




13. Juanek 98 kanika ditu eta bere lagunak Pedrok 125 oparitzen dizkio. Zenbat kanika ditu orain Juanek?

DATUAK

ERAGIKETA



EMAITZA



14. Lazo batek 150 zentrimetro neurtzen ditu eta besteak 85 zentimetro. Zenbat zentimetro neurtzen dute bi lazoak elkarrekin?

DATUAK

ERAGIKETA



EMAITZA



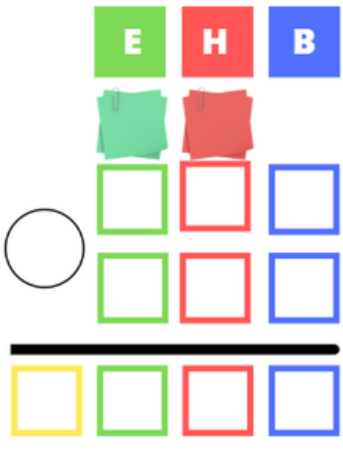


15. Sofiaren urtebetetze festarako, bere amak 150 gramo pisatzen zuen pastel handi bat erosi zuen eta 850 gramo pisatzen zuen txokolatezko torta bat. Zenbat pisatzen du postre guztiak denera?

DATUAK

ERAGIKETA

EMAITZA



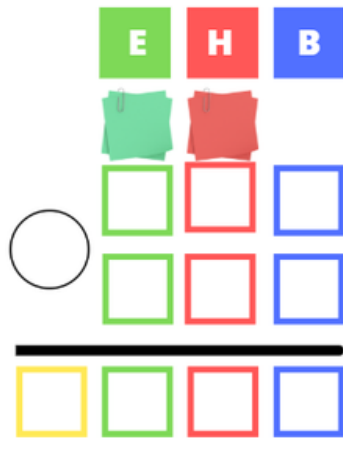


16. Juanek futbol kolekzioko 132 kromo ditu. Bere lagunak, berak ez dituen 98 kromo oparitzen badizkio, Juanek zenbat kromo izango ditu guztira?

DATUAK

ERAGIKETA

EMAITZA



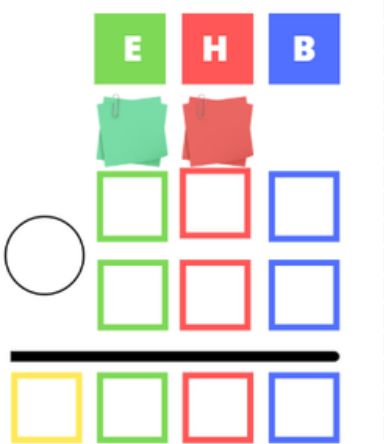




17. Sofia, bizikleta bat erosteko aurrezten ibili da. Bere kutxan 85 euro ditu eta bere aitona amonak 115 euro oparitu zizkioten bere urtebetetzetan. Zenbat diru dauka orain Sofiak bizikleta erosteko?

DATUAK

ERAGIKETA



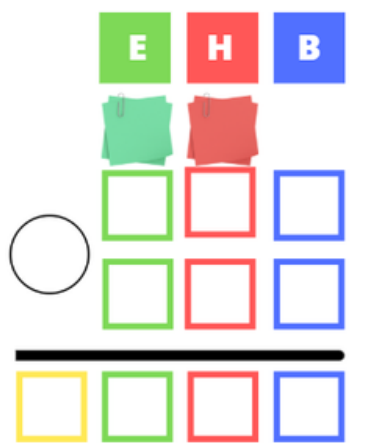
ERANTZUNA



18. 250 kanika nituen. Nire anaiari 120 kanika utzi nizkion bere lagunekin jolastu zedin. Zenbat kanika gelditu zitzaizkidan?

DATUAK

ERAGIKETA



ERANTZUNA

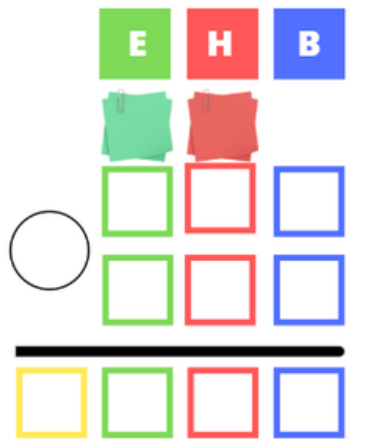




19. Mahai jolas batean 226 puntu nituen. Azken bueltan 115 puntu galdu banituen, zenbat punturekin geratu nintzen?

DATUAK

ERAGIKETA



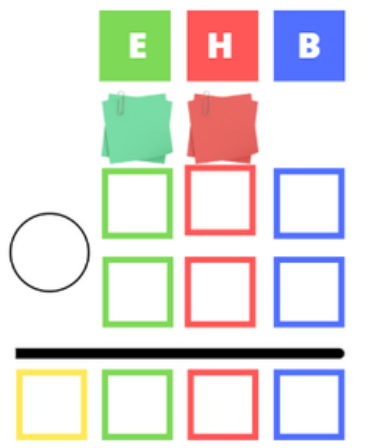
ERANTZUNA



20. Ana eta Maria beraien mahai jolas gustokoenean jolasten ibili dira. Anak 120 puntu lortu ditu, aldiz Mariak 180 puntuak lortu ditu. Zenbat puntu lortu dituzte biak elkarrekin?

DATUAK

ERAGIKETA




ERANTZUNA




1

5




2

4




3

7




4

7




5

12




6

10




7

21




8

52




9

200



10

240



11

110



12

200



13

223



14

235



15

1000



16

230



17

200



18

130



19

111



20

300

