



1. ANA TIENE 2 MANZANAS Y SU HERMANA LE DA 3 MÁS.  
¿CUÁNTAS MANZANAS TIENE ANA AHORA?



OPERACIÓN



D	U
<input type="text"/>	<input type="text"/>
<input type="text"/>	<input type="text"/>
<hr/>	
<input type="text"/>	<input type="text"/>

○

SUMAR:       RESTAR:

SOLUCIÓN:

2. MARTA TIENE 3 LÁPICES Y SU AMIGA LE REGALA 4 MÁS.  
¿CUÁNTOS LÁPICES TIENE AHORA?



OPERACIÓN

D	U
<input type="text"/>	<input type="text"/>
<input type="text"/>	<input type="text"/>
<hr/>	
<input type="text"/>	<input type="text"/>

○

SUMAR:       RESTAR:

SOLUCIÓN:

3. EN UNA CAJA HAY 9 JUGUETES. SE LLEVAN 3. ¿CUÁNTOS JUGUETES QUEDAN EN LA CAJA?



OPERACIÓN


D	U
<input type="text"/>	<input type="text"/>
<input type="text"/>	<input type="text"/>
<input type="text"/>	<input type="text"/>

○

SUMAR:       RESTAR:

SOLUCIÓN:

4. EN UN PARQUE HAY 7 PATOS Y 2 GANSOS. ¿CUÁNTOS ANIMALES HAY EN TOTAL?



OPERACIÓN

D	U
<input type="text"/>	<input type="text"/>
<input type="text"/>	<input type="text"/>
<input type="text"/>	<input type="text"/>

○

SUMAR:       RESTAR:

SOLUCIÓN:

5. UN GRUPO DE 2 AMIGOS VA AL CINE Y SE ENCUENTRAN CON 4 MÁS. ¿CUÁNTOS AMIGOS VAN AL CINE?



OPERACIÓN

	D	U
○	<input type="text"/>	<input type="text"/>
	<input type="text"/>	<input type="text"/>
	<input type="text"/>	<input type="text"/>

SUMAR:       RESTAR:

SOLUCIÓN:

6. EN UN TREN HAY 12 PASAJEROS. SE BAJAN 2 EN LA SIGUIENTE ESTACIÓN. ¿CUÁNTOS PASAJEROS QUEDAN?




OPERACIÓN

	D	U
○	<input type="text"/>	<input type="text"/>
	<input type="text"/>	<input type="text"/>
	<input type="text"/>	<input type="text"/>

SUMAR:       RESTAR:

SOLUCIÓN:

7. EN UNA GRANJA HAY 24 GALLINAS. SI 12 SE VENDEN, ¿CUÁNTAS QUEDAN EN LA GRANJA?



**OPERACIÓN**

	D	U
○	<input type="text"/>	<input type="text"/>
	<input type="text"/>	<input type="text"/>
	<hr/>	
	<input type="text"/>	<input type="text"/>

SUMAR:       RESTAR:

SOLUCIÓN:

8. EN UN ESTANTE HAY 18 LIBROS Y SE AÑADEN 10 MÁS. ¿CUÁNTOS LIBROS HAY EN TOTAL?



**OPERACIÓN**

	D	U
○	<input type="text"/>	<input type="text"/>
	<input type="text"/>	<input type="text"/>
	<hr/>	
	<input type="text"/>	<input type="text"/>

SUMAR:       RESTAR:

SOLUCIÓN:

9. EN UNA CLASE HAY 12 ALUMNOS Y SE APUNTAN 4 MÁS.  
¿CUÁNTOS ALUMNOS HAY EN TOTAL?



OPERACIÓN

D	U
<input type="text"/>	<input type="text"/>
<input type="text"/>	<input type="text"/>
<hr/>	
<input type="text"/>	<input type="text"/>

○

SUMAR:       RESTAR:

SOLUCIÓN:

10. ALBERTO TIENE 16 ENTRADAS PARA EL CINE PERO HA PERDIDO 5. ¿CUÁNTAS LE QUEDAN?



OPERACIÓN



D	U
<input type="text"/>	<input type="text"/>
<input type="text"/>	<input type="text"/>
<hr/>	
<input type="text"/>	<input type="text"/>

○

SUMAR:       RESTAR:

SOLUCIÓN:

1. Ana tiene 2 manzanas y su hermana le da 3 más.  
¿Cuántas manzanas tiene Ana ahora?



OPERACIÓN



D	U
<input type="text"/>	<input type="text"/>
<input type="text"/>	<input type="text"/>
<hr/>	
<input type="text"/>	<input type="text"/>

○

SUMAR:       RESTAR:

SOLUCIÓN:

2. Marta tiene 3 lápices y su amigo le regala 4 más. ¿Cuántos lápices tiene ahora?



OPERACIÓN

D	U
<input type="text"/>	<input type="text"/>
<input type="text"/>	<input type="text"/>
<hr/>	
<input type="text"/>	<input type="text"/>

○

SUMAR:       RESTAR:

SOLUCIÓN:

3. En una caja hay 10 juguetes. Se llevan 3. ¿Cuántos juguetes quedan en la caja?




OPERACIÓN

	D	U
○	<input type="text"/>	<input type="text"/>
	<input type="text"/>	<input type="text"/>
	<input type="text"/>	<input type="text"/>

SUMAR:       RESTAR:

SOLUCIÓN:

4. En un parque hay 7 patos y 2 gansos. ¿Cuántos animales hay en total?



OPERACIÓN

	D	U
○	<input type="text"/>	<input type="text"/>
	<input type="text"/>	<input type="text"/>
	<input type="text"/>	<input type="text"/>

SUMAR:       RESTAR:


SOLUCIÓN:

5. Un grupo de 2 amigos va al cine y se encuentran con 4 más. ¿Cuántos amigos van al cine?



OPERACIÓN

D	U
<input type="text"/>	<input type="text"/>
<input type="text"/>	<input type="text"/>
<hr/>	
<input type="text"/>	<input type="text"/>



SUMAR:

RESTAR:


SOLUCIÓN:

6. En un tren hay 12 pasajeros. Se bajan 2 en la siguiente estación. ¿Cuántos pasajeros quedan?



OPERACIÓN

D	U
<input type="text"/>	<input type="text"/>
<input type="text"/>	<input type="text"/>
<hr/>	
<input type="text"/>	<input type="text"/>




SUMAR:

RESTAR:


SOLUCIÓN:

7. En una granja hay 24 gallinas. Si 12 se venden, ¿cuántas quedan en la granja?



OPERACIÓN

D	U
<input type="text"/>	<input type="text"/>
<input type="text"/>	<input type="text"/>
<hr/>	
<input type="text"/>	<input type="text"/>



SUMAR:

RESTAR:


SOLUCIÓN:

8. En un estante hay 18 libros y se añaden 10 más. ¿Cuántos libros hay en total?



OPERACIÓN

D	U
<input type="text"/>	<input type="text"/>
<input type="text"/>	<input type="text"/>
<hr/>	
<input type="text"/>	<input type="text"/>



SUMAR:

RESTAR:

SOLUCIÓN:

9. En una clase hay 12 alumnos y se APUNTAN 4 más.  
¿Cuántos alumnos hay en total?



OPERACIÓN

D	U
<input type="text"/>	<input type="text"/>
<input type="text"/>	<input type="text"/>
<hr/>	
<input type="text"/>	<input type="text"/>

○

SUMAR:       RESTAR:

SOLUCIÓN:

10. ALBERTO TIENE 16 ENTRADAS PARA EL CINE PERO HA PERDIDO 5. ¿CUÁNTAS LE QUEDAN?



OPERACIÓN

D	U
<input type="text"/>	<input type="text"/>
<input type="text"/>	<input type="text"/>
<hr/>	
<input type="text"/>	<input type="text"/>

○

SUMAR:       RESTAR:

SOLUCIÓN: