

DESCOMPONEMOS CON SUMBLOX



ESTE PACK INCLUYE:

1. Tarjetas para sumar con piezas de Sumblox.
2. Tarjetas para restar con piezas de Sumblox.
3. Plantillas para trabajar la descomposición.
4. Fichas para trabajar la descomposición.

SUMAS CON SUMBLOX


$$_ + 3 = _$$

$$6 + _ = _$$

nuestraclasedeprimero 

$$_ + 3 = \underline{4}$$

nuestraclasedeprimero 

$$6 + _ = \underline{7}$$
 


$$2 + 8 = _$$

$$4 + 3 = _$$

nuestraclasedeprimero 

$$2 + 8 = \underline{10}$$

nuestraclasedeprimero 

$$4 + 3 = \underline{7}$$
 

$$9 + _ = _$$

$$6 + 3 = _$$

nuestraclasedeprimero 

$$9 + _ = \underline{10}$$

nuestraclasedeprimero 

$$6 + 3 = \underline{9}$$

SUMAS CON SUMBLOX

$$1 + 5 = \underline{\quad}$$

$$4 + 5 = \underline{\quad}$$

nuestraclasedeprimero 

$$1 + 5 = \underline{6}$$

nuestraclasedeprimero 

$$4 + 5 = \underline{9}$$

$$2 + 6 = \underline{\quad}$$

$$5 + 5 = \underline{\quad}$$

nuestraclasedeprimero 

$$2 + 6 = \underline{8}$$

nuestraclasedeprimero 

$$5 + 5 = \underline{10}$$

$$3 + 3 = \underline{\quad}$$

$$1 + 1 = \underline{\quad}$$

nuestraclasedeprimero 

$$3 + 3 = \underline{6}$$

nuestraclasedeprimero 

$$1 + 1 = \underline{2}$$

RESTAS CON SUMBLOX

$$4 - 3 = \underline{\quad}$$

nuestraclassedeprimero 

$$4 - 3 = \underline{1}$$

$$7 - \underline{\quad} = \underline{\quad}$$

nuestraclassedeprimero 

$$7 - \underline{1} = \underline{6}$$

$$10 - 8 = \underline{\quad}$$

nuestraclassedeprimero 

$$10 - 8 = \underline{2}$$

$$7 - 3 = \underline{\quad}$$

nuestraclassedeprimero 

$$7 - 3 = \underline{4}$$

$$10 - \underline{\quad} = \underline{\quad}$$

nuestraclassedeprimero 

$$10 - \underline{1} = \underline{9}$$

$$9 - 3 = \underline{\quad}$$

nuestraclassedeprimero 

$$9 - 3 = \underline{6}$$

RESTAS CON SUMBLOX

$$6 - 5 = \underline{\quad}$$

nuestraclasedeprimero 

$$6 - 5 = \underline{1}$$

$$9 - 5 = \underline{\quad}$$

nuestraclasedeprimero 

$$9 - 5 = \underline{4}$$

$$8 - 6 = \underline{\quad}$$

nuestraclasedeprimero 

$$8 - 6 = \underline{2}$$

$$10 - 5 = \underline{\quad}$$

nuestraclasedeprimero 

$$10 - 5 = \underline{5}$$

$$6 - 3 = \underline{\quad}$$

nuestraclasedeprimero 

$$6 - 3 = \underline{3}$$

$$2 - \underline{\quad} = \underline{\quad}$$

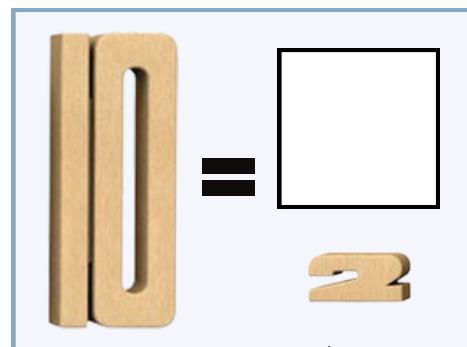
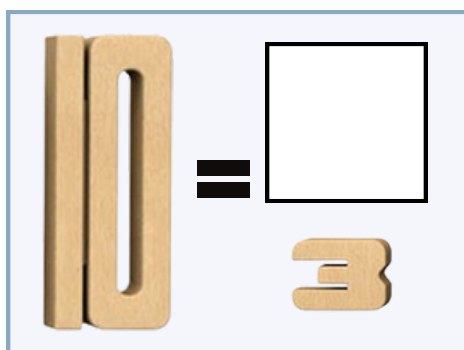
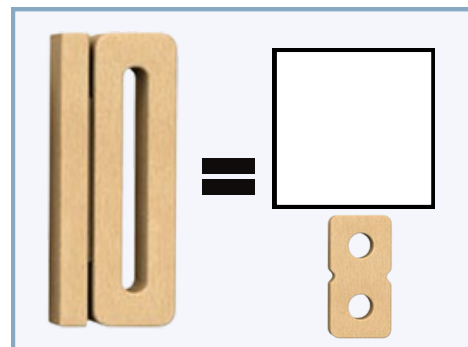
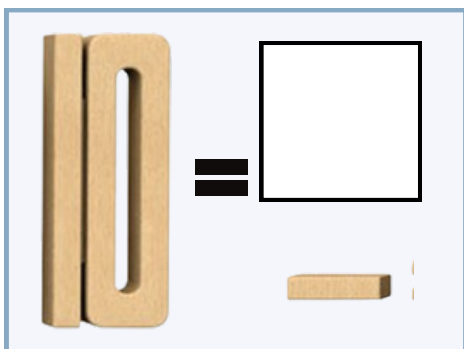
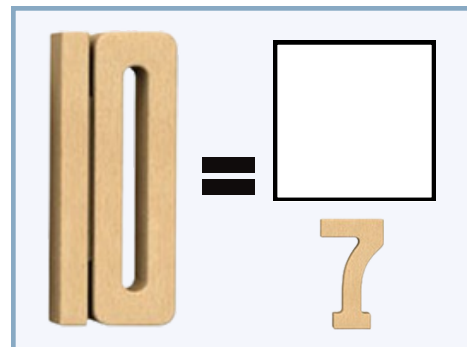
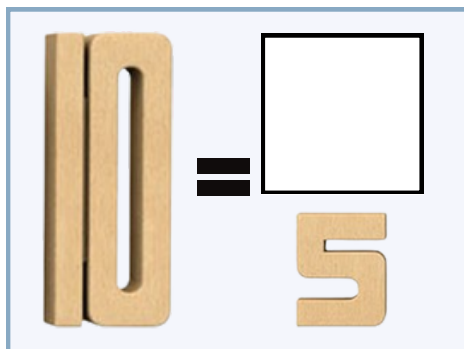
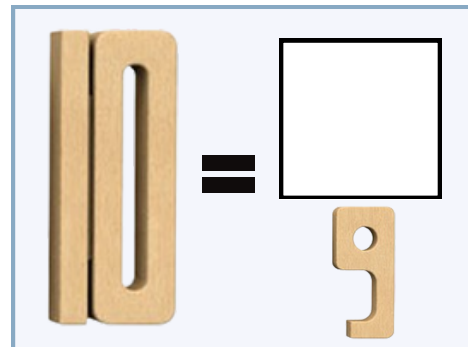
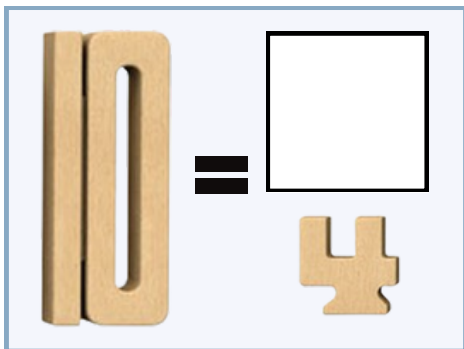
nuestraclasedeprimero 

$$2 - \underline{\quad} = \underline{\quad}$$

DESCOMPONEMOS CON SUMBLOX

INSTRUCCIONES

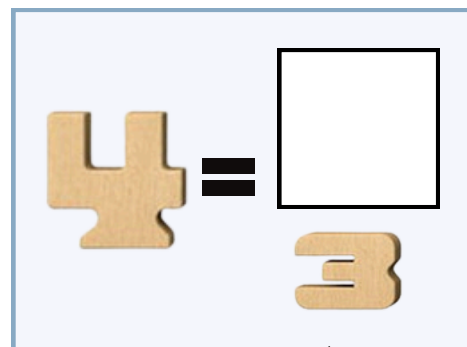
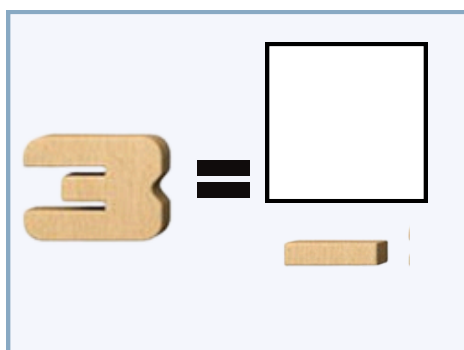
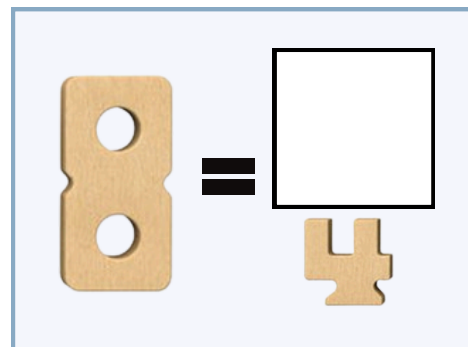
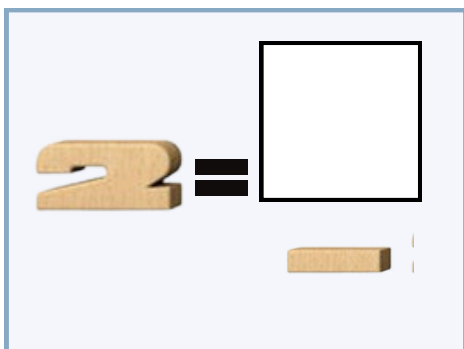

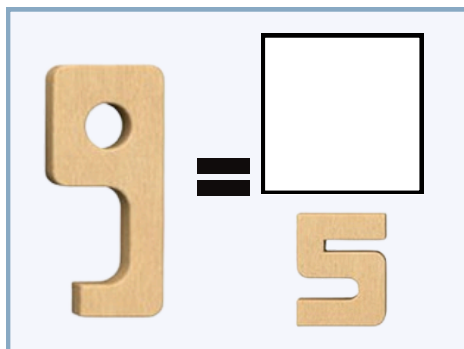
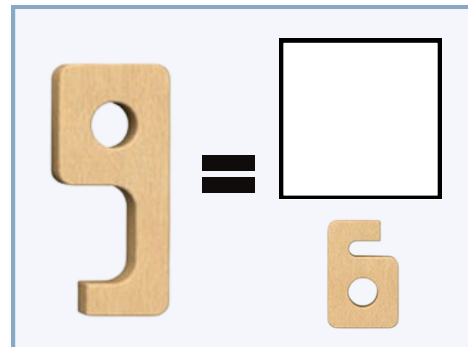
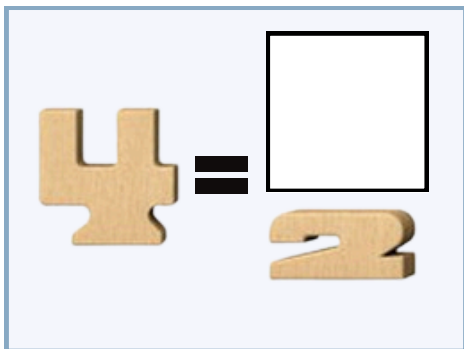
1. Observa los números y comienza a jugar con ellos.
2. Averigua qué número falta para formar el 10.



DESCOMPONEMOS CON SUMBLOX

INSTRUCCIONES

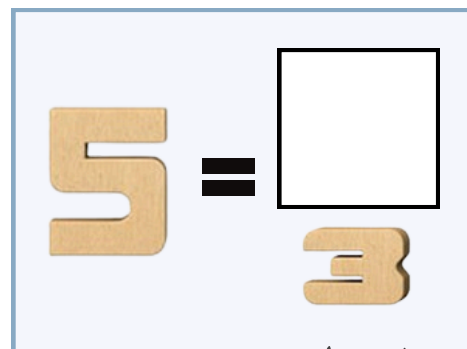
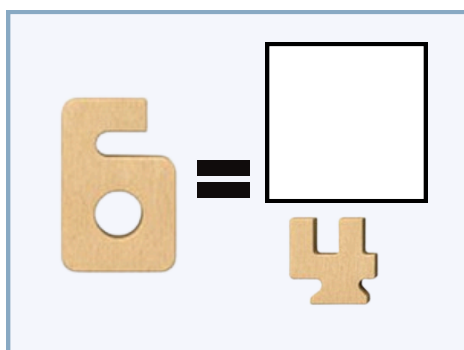
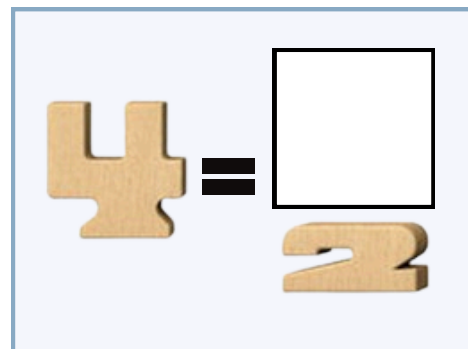
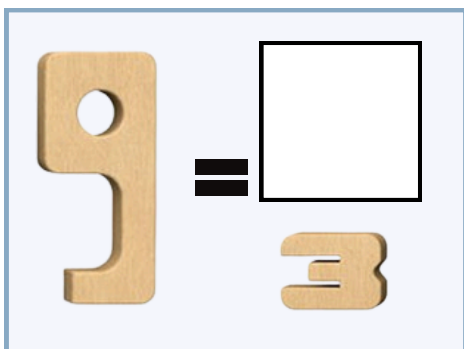
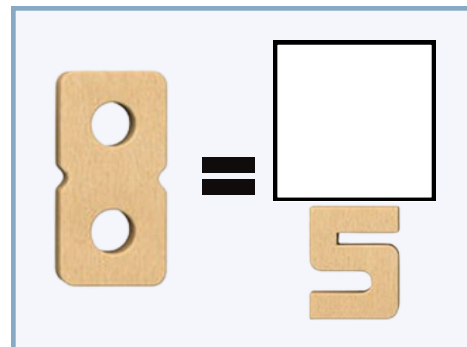

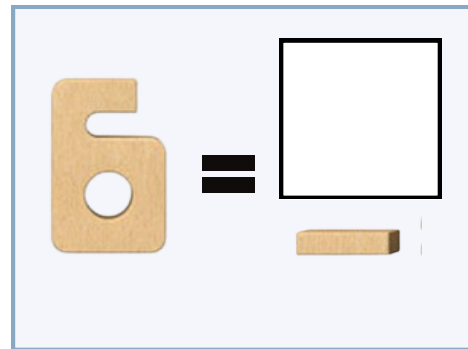
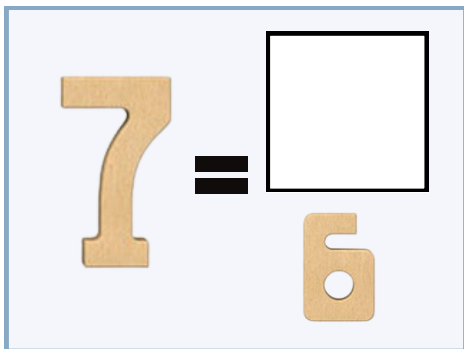
1. Observa los números y comienza a jugar con ellos.
2. Averigua qué número falta para formar el número grande.



DESCOMPONEMOS CON SUMBLOX

INSTRUCCIONES

1. Observa los números y comienza a jugar con ellos.
2. Averigua qué número falta para formar el número grande.



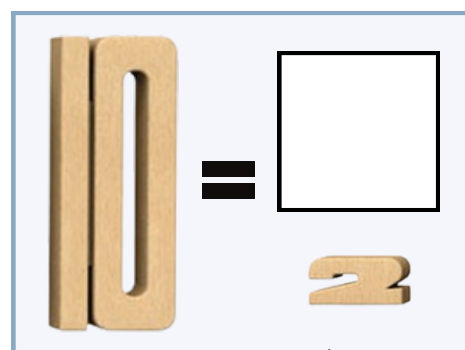
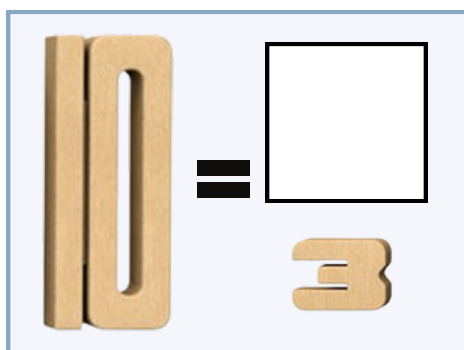
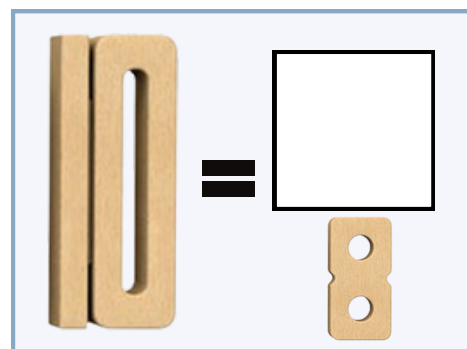
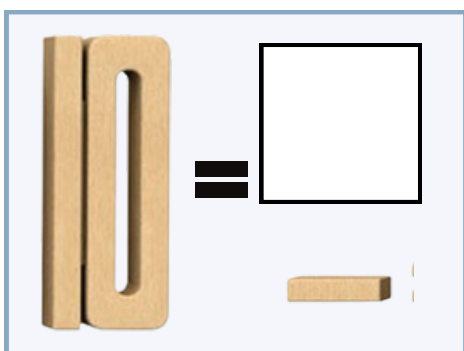
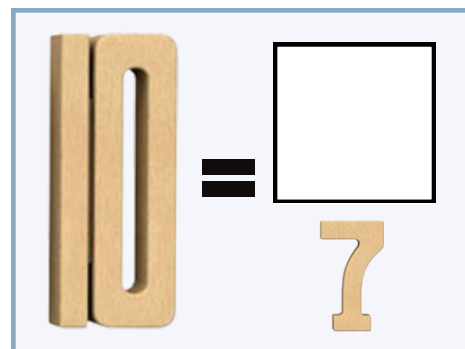
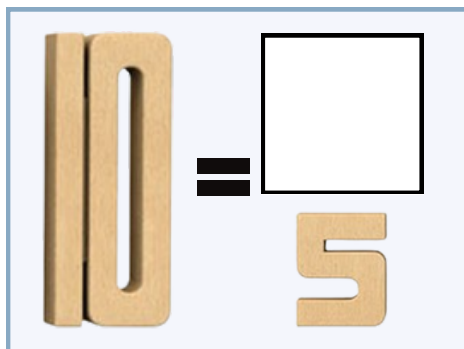
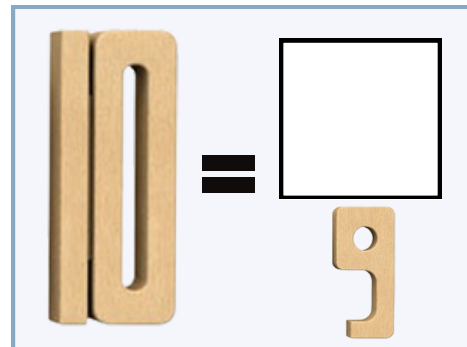
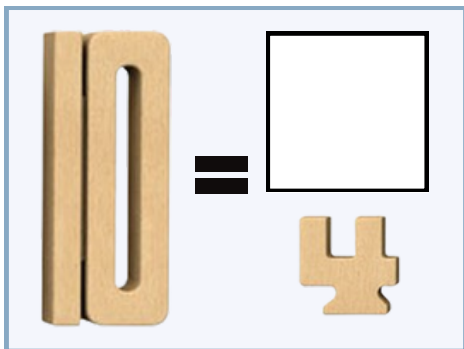
Nombre:

Fecha:

DESCOMPONEMOS CON SUMBLOX

INSTRUCCIONES

1. Observa los números y comienza a jugar con ellos.
2. Averigua qué número falta para formar el 10.



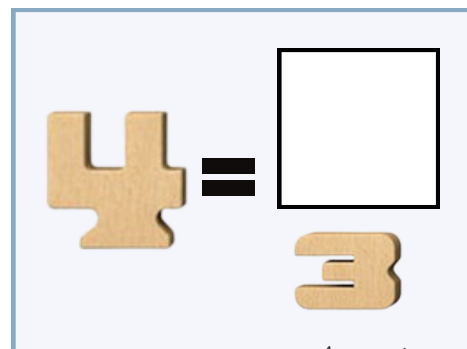
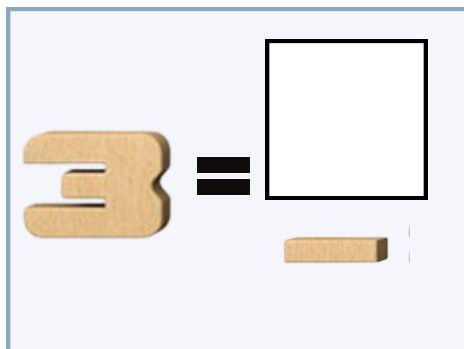
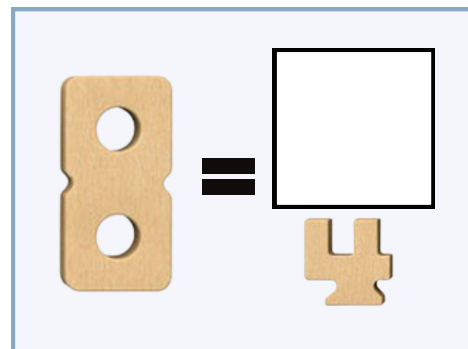
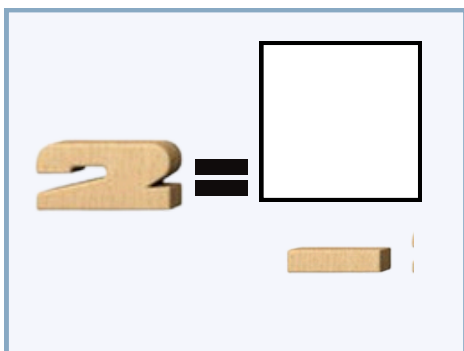
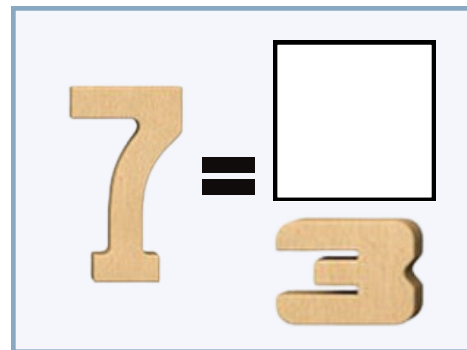
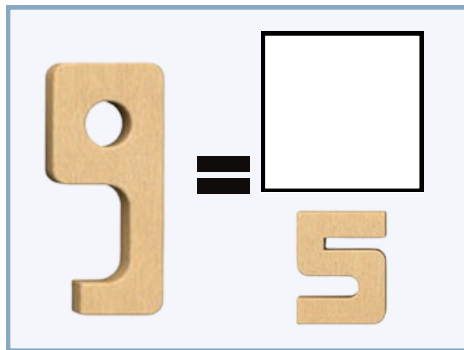
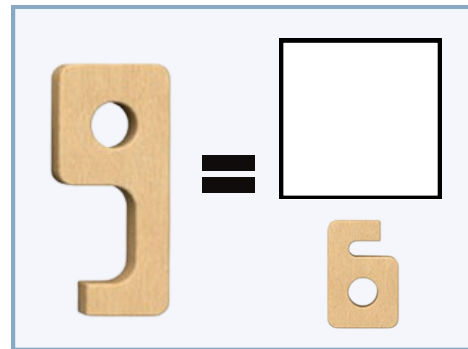
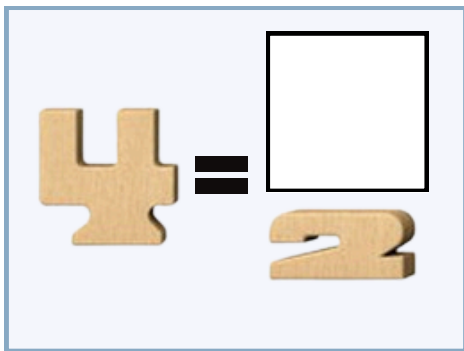
Nombre:

Fecha:

DESCOMPONEMOS CON SUMBLOX

INSTRUCCIONES

1. Observa los números y comienza a jugar con ellos.
2. Averigua qué número falta para formar el número grande.



Nombre:

Fecha:

DESCOMPONEMOS CON SUMBLOX

INSTRUCCIONES

1. Observa los números y comienza a jugar con ellos.
2. Averigua qué número falta para formar el número grande.

