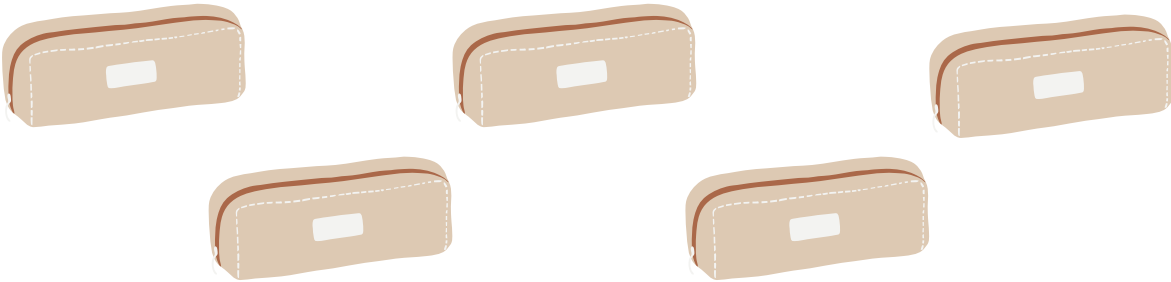


Nombre:

Fecha:

- 1. Hay 5 estuches y cada uno tiene 6 lápices. ¿Cuántos lápices hay en total?

Multiplicar:  
 Dividir:



Solución:

nuestraclassedeprimero 

- 2. Se reparten 24 caramelos en 4 bolsitas iguales. ¿Cuántos caramelos hay en cada bolsita?

Multiplicar:  
 Dividir:



Solución:

nuestraclassedeprimero 

Nombre:

Fecha:

- 3. Cada niño tiene 2 globos. Si hay 10 niños, ¿cuántos globos hay en total?

Multiplicar:

Dividir:




Solución:

nuestraclasedeprimero 

- 4. Un tren tiene 4 vagones. En cada vagón hay 7 pasajeros. ¿Cuántos pasajeros hay en total?

Multiplicar:

Dividir:



Solución:

nuestraclasedeprimero 

Nombre:

Fecha:

- 5. Hay 30 canicas en 5 frascos. ¿Cuántas canicas hay en cada frasco?

Multiplicar:  
 Dividir:



Solución:

nuestraclasedeprimero 

- 6. Hay 6 estanterías y en cada una hay 3 libros. ¿Cuántos libros hay en total?

Multiplicar:  
 Dividir:




Solución:

nuestraclasedeprimero 

Nombre:

Fecha:

- 7. En una caja hay 36 pelotas que se reparten en 6 bolsas iguales. ¿Cuántas pelotas hay en cada bolsa?



Multiplicar:

Dividir:

Solución:

nuestraclassedeprimero 

- 8. Una semana tiene 7 días. ¿Cuántos días hay en 3 semanas?



Multiplicar:

Dividir:

Solución:

nuestraclassedeprimero 

Nombre:

Fecha:

- 9. Un pastel se divide en 12 trozos. Si hay 4 personas, ¿cuántos trozos recibe cada una?

Multiplicar:

Dividir:



Solución:

nuestraclasedeprimero 

- 10. Cada bicicleta tiene 2 ruedas. Si hay 7 bicicletas, ¿cuántas ruedas hay en total?

Multiplicar:

Dividir:



Solución:

nuestraclasedeprimero 

Nombre:

Fecha:

- 13. En una clase hay 6 filas de pupitres. En cada fila hay 5 pupitres. ¿Cuántos pupitres hay en total?

Multiplicar:

Dividir:



Solución:

nuestraclasedeprimero 

- 14. Se reparten 21 flores en 7 jarrones. ¿Cuántas flores hay en cada jarrón?

Multiplicar:

Dividir:



Solución:

nuestraclasedeprimero 

Nombre:

Fecha:

- 15. En una tienda se venden 5 camisetas al día. ¿Cuántas camisetas se venden en 9 días?



Multiplicar:

Dividir:



Solución:

nuestraclasedeprimero 

- 16. Cada flor tiene 6 pétalos. Si hay 4 flores, ¿cuántos pétalos hay en total?

Multiplicar:

Dividir:



Solución:

nuestraclasedeprimero 