

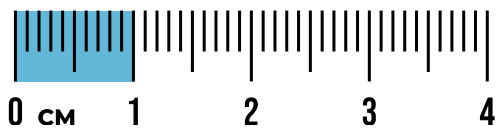
NOMBRE: _____

FECHA: _____



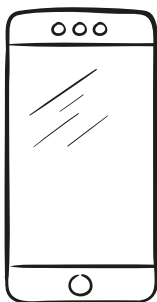






¿CON CUÁL LO MEDIMOS?

COLOREA CADA FIGURA SEGÚN EL OBJETO QUE USARÍAS PARA MEDIR SU LONGITUD.

REGLA



METRO



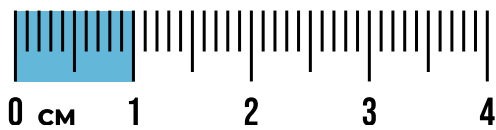
NOMBRE: _____

FECHA: _____


¿CON CUÁL LO MEDIMOS?


ESCRIBE "REGLA" O "METRO" SEGÚN LA UNIDAD DE LONGITUD MÁS ADECUADA PARA SU MEDICIÓN.

REGLA




METRO










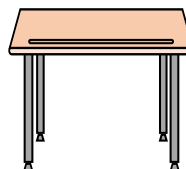












NOMBRE: _____

FECHA: _____

¿CUÁNTO MIDE?


MIDE LOS SIGUIENTES OBJETOS E INDICA CUANTO MIDEN.

¿REGLA O METRO?



REGLA

11 CM



NOMBRE: _____

FECHA: _____

EL MÁS LARGO

NUMERA CON 1, 2 Y 3 PARA INDICAR CUÁL ES EL MENOS LARGO, EL NO TAN LARGO Y EL MÁS LARGO.

